


**Пригадай, ти це
знаєш!**

Вчитель **Треніна**
Лариса **Сергіївна**
Клас 8-А, 8-Б кл



Геометрія – 8

Тема:
«Центральні і вписані кути»

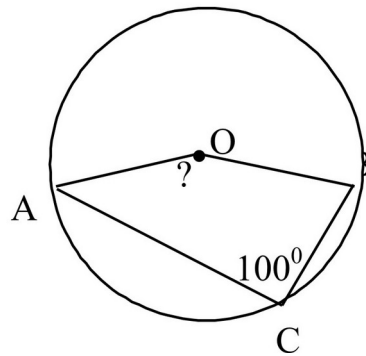
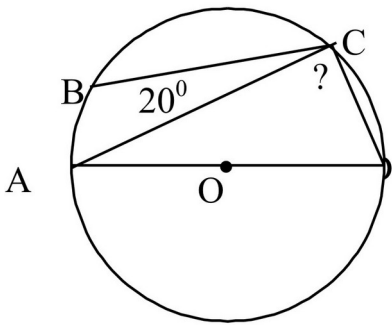
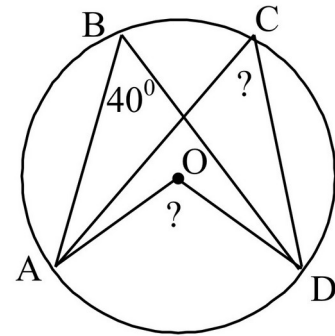
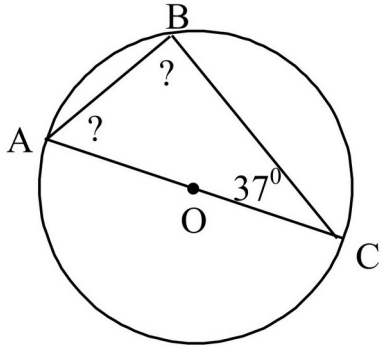
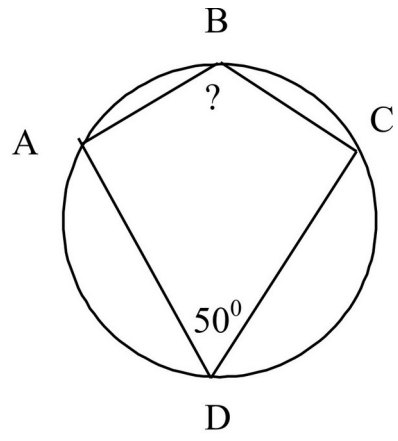
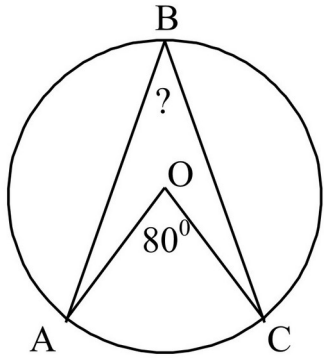


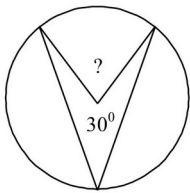
Рисунок 1

Геометрия – 8

Тема: «Центральные и вписанные углы»

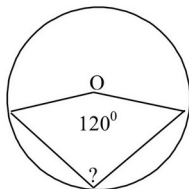
I вариант

1)



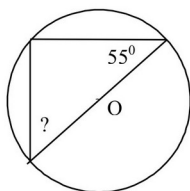
- А) 30° Б) 60° В) 300°

2)



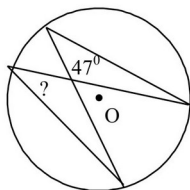
- А) 120° Б) 240° В) 60°

3)



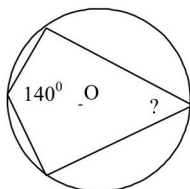
- А) 90° Б) 35° В) 55°

4)



- А) 47° Б) 94° В) $23^\circ 30'$

5)



- А) 140° Б) 80° В) 40°

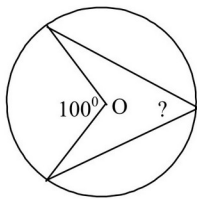
Рисунок 2

Геометрия – 8

Тема: «Центральные и вписанные углы»

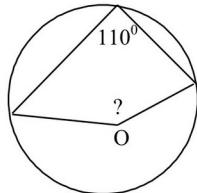
II вариант

1)



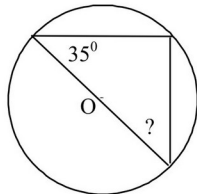
- A) 100° Б) 160° В) 50°

2)



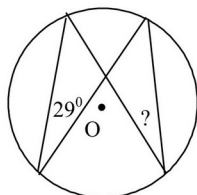
- A) 110° Б) 140° В) 220°

3)



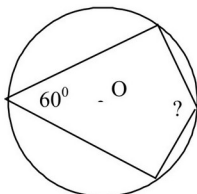
- A) 35° Б) 55° В) 90°

4)



- A) 58° Б) $14^{\circ}30'$ В) 29°

5)



- A) 120° Б) 60° В) 240°

Рисунок 3